

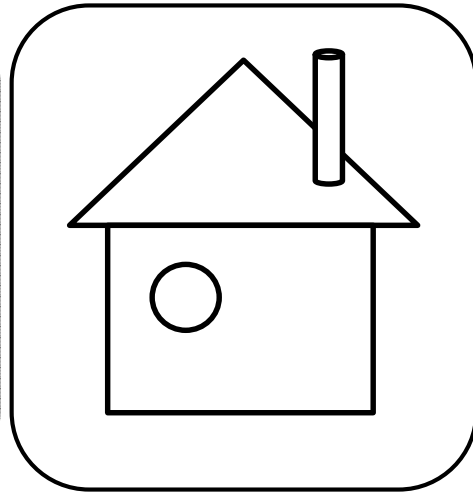





# 鏡映し -11

年 月 日

ま なか 真ん中の2つのパネルが、  
かがみ すいめん うつ 鏡と水面に映ったらそれぞれどう見えるでしょうか？  
そうそう か 想像して描きましょう。



かがみ  
鏡

すいめん  
水面

かがみ  
鏡

すいめん  
水面



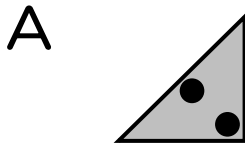
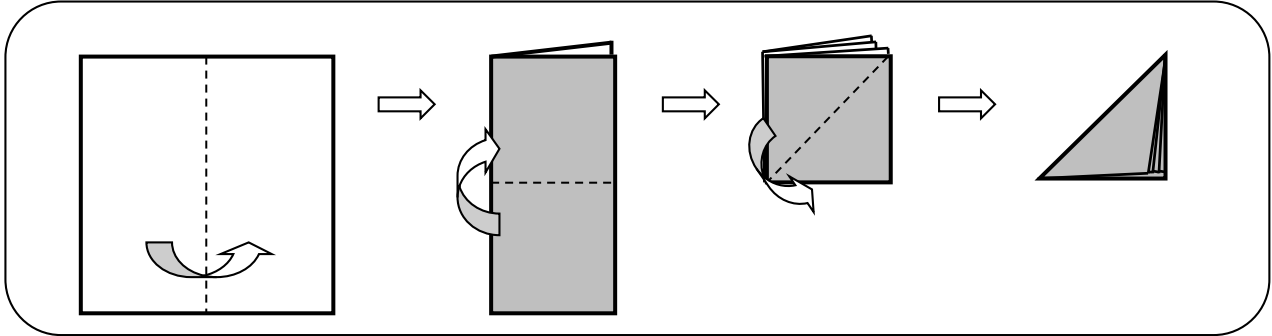




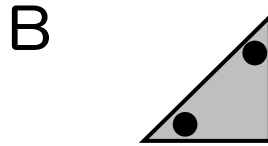
# 穴の位置 ② -8

年 月 日

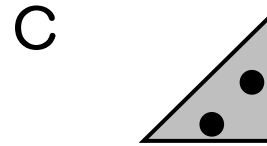
折り紙を下のように折り、A、B、Cのように穴を開け、折り紙を開くとどうなるでしょうか？1～9から選び、( )に番号を書きましょう。



( )



( )



( )

